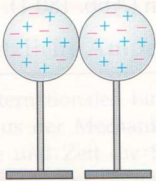
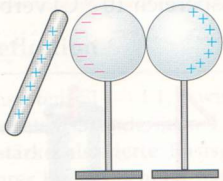


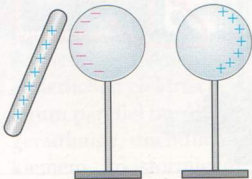
a)



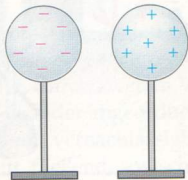
b)



c)



d)



179.2 Zwei sich berührende neutrale Kugeln **(a)** werden in die Nähe eines geladenen Körpers gebracht **(b)**. Trennt man die Kugeln **(c)**, so sind sie entgegengesetzt gleich stark geladen **(d)**.